



CÓD: SL-057JN-22
7908433216032

PM-MT E CBM-MT

**POLÍCIA MILITAR DO MATO GROSSO E
CORPO DE BOMBEIROS MILITAR DO ESTADO DE MATO GROSSO**

500 Questões Gabaritadas

CADERNO DE QUESTÕES

1. (UFMT - 2007 - PREFEITURA DE CUIABÁ - MT - PROCURADOR MUNICIPAL)

Em defesa do padrão nacional

1 Não entendo nada de mulher, claro. Aliás, ninguém entende, nem mesmo Freud, que, num momento de aparente exasperação, perguntou o que as mulheres querem e morreu sem saber.

Sou provocado a aventurar-me em terreno tão resvaladiço por causa das notícias, cada vez mais freqüentes, de moças que, na busca de atingir o padrão de beleza vigente, caem vítimas de anorexia nervosa e morrem. Ninguém gosta de saber desses acontecimentos tristes, motivados pela ânsia de identificação com o modelo hegemônico ou, mais patético ainda, pelo afã de ter sucesso numa carreira equivocadamente julgada fácil, mas difficilima e penosíssima, onde um número enorme de jovens se perde todos os anos. Mas, claro, só aparecem as lindas e bem sucedidas, cuja vida para seus admiradores é um mar de rosas de festas e glamour.

10 E que padrão de beleza é esse, será mesmo, digamos, "natural", será de fato o preferido por homens e mulheres que não estão comprometidos com o conhecido "Barbie look"? Quanto às mulheres, massacradas sem clemência por gostosas irretocáveis (na verdade retocadas pelo Photoshop), que não têm uma manchinha na pele, uma estriazinha escondida, uma celulitezinha e ostentam dotes de uma perfeição na verdade fictícia, não posso falar muito. Mas quanto aos homens posso, porque ouço a opinião de muitos deles e não só saudosistas do modelo violão (em inglês "hour-glass look", aparência de ampulheta), mas jovens também.

15 Em primeiro lugar, devo afirmar enfaticamente, não por demagogia ou qualquer interesse subalterno, mas em função de uma permanente pesquisa sociológica informal, existe vasto e devotado mercado para as gordinhas e até para as mais gordinhas do que as gordinhas.

Mulher tem que ter cintura, violão ou ampulheta não interessa, mas é vital a formosa concavidade entre as costelas e as ancas. Creio mesmo que, consultada a opinião pública, tanto de homens como de mulheres, mesmo as descinturadas por uma malhação perversa, a maioria concordaria em que mulher tem que ter cintura, faz parte da figura feminina, é clássico, e até constituinte do doce mistério das mulheres. E há muitas gordinhas, sim senhor, mantidas no modelo violão. Está bem, violoncelo, mas com a cintura no lugar. E sei que as descinturadas, conscientemente ou não, também sabem disso, porque noto, entre as muito fotografadas, que elas procuram sempre posar curvando os quadris para um lado, fingindo ainda ter a cintura insensatamente perdida.

25 Agora, para alegria dos violonófilos e cinturistas, chega evidência científica de que o padrão esquelético ou Barbie nunca esteve com nada, não deverá estar com nada no futuro e só está com alguma coisa no presente devido a interesses de



Em relação ao gênero, pode-se afirmar que o texto é

Alternativas

- (A) artigo de opinião sobre tema da contemporaneidade.
- (B) ensaio de divulgação científica.
- (C) relato de experimento.
- (D) editorial que apresenta bibliografia comentada.
- (E) crônica de cunho intimista.

2..(UFMT - 2007 - PREFEITURA DE CUIABÁ - MT - PROCURADOR MUNICIPAL)

De acordo com a imagem da questão 1, responda os itens a seguir:

Que intencionalidade estrutura o texto?

- (A) Contrapor os ideais de beleza de homens e mulheres.
- (B) Corroborar as opiniões correntes na indústria da moda sobre elegância e beleza.
- (C) Fazer um elogio às mulheres que buscam vencer no mercado de trabalho.
- (D) Criticar regimes feitos sem acompanhamento médico, o que leva à anorexia.
- (E) Questionar os padrões de beleza feminina, a partir de discussões recentes sobre distúrbios alimentares.

3..(UFMT - 2007 - PREFEITURA DE CUIABÁ - MT - PROCURADOR MUNICIPAL)

De acordo com a imagem da questão 1, responda os itens a seguir:

A argumentação de João Ubaldo caracteriza-se também por Alternativas

- (A) apresentar falas diretas de pessoas ligadas à moda.
- (B) distanciar-se do seu leitor, tratando-o por senhor.
- (C) uso de perguntas que quebram a seqüencialidade, introduzindo novo assunto.
- (D) descompromisso em persuadir o leitor, com uma linguagem predominantemente objetiva, denotativa.
- (E) antecipação de contra argumento.

4..(UFMT - 2007 - PREFEITURA DE CUIABÁ - MT - PROCURADOR MUNICIPAL)

De acordo com a imagem da questão 1, responda os itens a seguir.:

Em relação à linguagem do texto, marque V para as afirmativas verdadeiras e F para as falsas.

- () A ocorrência de neologismos como violonófilos e cinturistas garante expressividade ao texto.
- () O uso de interjeições como a-ha e claro caracteriza o registro formal adotado para o texto.
- () A parodização de discurso solene causa efeito de humor: Espero que o país se una em torno do restabelecimento do legítimo padrão nacional e que a mulher brasileira, pioneira natural solertemente desviada por uma modernidade colonizada, reassuma sua estatuésca e inimitável majestade...
- () A opção pelo diminutivo tem objetivo irônico, depreciador em: ...que não têm uma manchinha na pele, uma estriazinha escondida, uma celulitezinha.

Assinale a seqüência correta.

- (A) V, F, V, V
- (B) F, V, F, V
- (C) V, F, V, F
- (D) V,V, V, V
- (E) F, F, V, V

5..(UFMT - 2007 - PREFEITURA DE CUIABÁ - MT - PROCURADOR MUNICIPAL)

De acordo com a imagem da questão 1, responda os itens a seguir.:

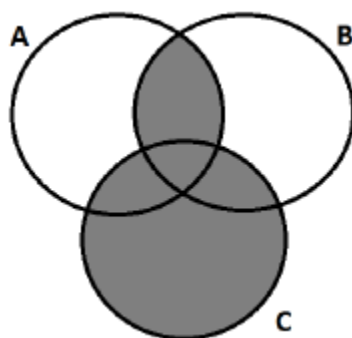
Em relação à coesão textual, marque a afirmativa correta.

Alternativas

- (A) Em Aliás, ninguém entende, o conector introduz oposição em relação à frase anterior (linha 1).
- (B) A expressão a formosa concavidade entre as costelas e as ancas tem como referente o termo ampulheta (linha 18).
- (C) Em Agora, para alegria dos violonófilos e cinturistas, chega evidência científica, o termo agora introduz idéia alternativa, sem expressar temporalidade (linha 25).
- (D) A repetição de quanto estabelece coordenação entre duas orações seqüentes (linhas 10 e 12).
- (E) O conector não sómas também relaciona idéias contrastantes, de adversidade (linha 13).

1. UFMT - Administrador (UFSB)/2017 (e mais 14 concursos)

Observe o diagrama.

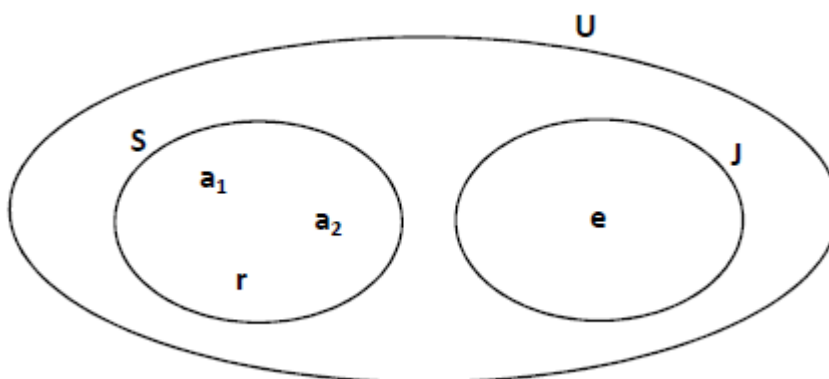


Em relação à região sombreada no diagrama, assinale a afirmativa **INCORRETA**.

- (A) Podem existir elementos que pertencem a A e a B.
- (B) Podem existir elementos que pertencem somente a A.
- (C) Podem existir elementos que pertencem a dois conjuntos apenas.
- (D) Podem existir elementos que pertencem somente a C.

2. UFMT - Técnico (UFSB)/Tecnologia da Informação/2017

No diagrama abaixo, estão representados dois conjuntos: **S** que representa o campus Sosígenes Costa e **J** que representa o campus Jorge Amado, ambos contidos no conjunto **U**, que representa a UFSB. Os professores Alemar, Augustin, Rosângela e Evani são professores de artes da UFSB representados pelos elementos a_1 , a_2 , r e e , respectivamente.



A partir dessas informações, analise as sentenças.

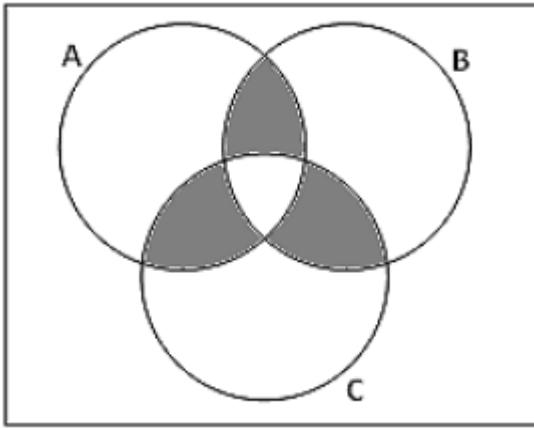
- I - A proposição "A professora Evani é professora de artes e leciona no campus Sosígenes Costa" é verdadeira.
- II - $S \cup J = U$.

Assim sendo,

- (A) I está errada e II está correta.
- (B) I está correta e II está errada.
- (C) I e II estão corretas.
- (D) I e II estão erradas.

3. UFMT - Técnico (UFSB)/Tecnologia da Informação/2017

Foi feita uma pesquisa com o corpo discente do Programa de Pós-Graduação em Estado e Sociedade da UFSB, sobre a leitura de três periódicos científicos A, B e C. O diagrama abaixo representa a relação entre os dados da pesquisa.



A região sombreada nesse diagrama representa os discentes que leem

- (A) somente dois periódicos.
- (B) os periódicos A, B e C.
- (C) os periódicos A ou B ou C.
- (D) os periódicos (A e B.) ou (A e C.) ou (B e C.)

4. UFMT - Técnico de Desenvolvimento Educacional (Pref VG)/Técnico de Desenvolvimento Infantil/2018 (e mais 6 concursos)

Os três campeonatos de futebol mais comentados e acompanhados no Brasil são Campeonato Brasileiro, Copa Brasil e Taça Libertadores. Foi feita uma pesquisa para entender o relacionamento dos brasileiros em relação a esses três campeonatos. Os resultados foram:

- 35% acompanham o Campeonato Brasileiro e a Copa Brasil;
- 30% acompanham a Copa Brasil e a Taça Libertadores;
- 38% acompanham o Campeonato Brasileiro e a Taça Libertadores;
- 15% não acompanham nenhum desses 3 campeonatos;
- 20% acompanham os 3 campeonatos.

O percentual de entrevistados que acompanham somente um dos três campeonatos é:

- (A) 22%
- (B) 20%
- (C) 18%
- (D) 15%

5. UFMT - Analista de Tecnologia da Informação (UFSB)/2017

Um levantamento socioeconômico realizado entre os técnico- administrativos de uma universidade pública revelou que exatamente 36% possuem casa própria, 72% possuem automóvel e 15% possuem casa própria e automóvel. Assinale o percentual dos que não possuem casa própria nem automóvel.

- (A) 7%
- (B) 11%
- (C) 15%
- (D) 17%

6. UFMT - Agente Municipal (Pref Cuiabá)/Segurança/2007 (e mais 1 concurso)

Uma pesquisa realizada num bairro de Cuiabá apresentou o seguinte resultado: 65% dos entrevistados conhecem a Chapada dos Guimarães, 55% conhecem o Pantanal e 15% não conhecem nenhum desses lugares. De acordo com essa pesquisa, o percentual de pessoas que conhecem esses dois lugares é:

- (A) 30%
- (B) 20%
- (C) 40%
- (D) 25%
- (E) 35%

7. UFMT - Técnico de Desenvolvimento Educacional (Pref VG)/Técnico de Desenvolvimento Infantil/2018 (e mais 6 concursos)

Seja o conjunto $A = \{x \in \mathbb{N}^* \mid 3x - 1 < 2x + 4\}$ $A = \{x \in \mathbb{N}^* \mid 3x - 1 < 2x + 4\}$. Quantos elementos o conjunto A possui?

- (A) infinitos
- (B) 5
- (C) 4
- (D) $A = \{0, 1, 2, 3, 4, 5\}$

NOÇÕES DE INFORMÁTICA

1.(UFMT - 2010 - PREFEITURA DE CUIABÁ - MT - TÉCNICO EM ADMINISTRAÇÃO ESCOLAR)

Assinale o software oferecido pelo Windows XP que limita ou impede o acesso aos dados do computador por outros computadores por meio de uma rede.

- (A) Antivírus
- (B) Contas de usuário
- (C) Antispywares
- (D) Firewall

2.(UFMT - 2010 - PREFEITURA DE CUIABÁ - MT - TÉCNICO EM ADMINISTRAÇÃO ESCOLAR)

Sobre os vários utilitários de sistema disponibilizados pelo Windows XP, encontrados no menu Programas/Acessórios/Ferramentas do Sistema, assinale a afirmativa correta.

Alternativas

- (A) A ferramenta Restauração do Sistema permite restaurar uma cópia de segurança realizada pela ferramenta Backup.
- (B) A ferramenta Backup faz cópias de arquivos e configurações do sistema, permitindo restaurações futuras caso ocorra algum problema com os dados e/ou configurações.
- (C) A ferramenta Desfragmentador de Disco permite criar e/ou excluir partições no disco rígido do computador.
- (D) A ferramenta Limpeza de Disco realiza operações com os cabeçotes de leitura e escrita do disco rígido a fim de retirar possíveis sujeiras que ali possam ter acumulado.

3.(UFMT - 2010 - PREFEITURA DE CUIABÁ - MT - TÉCNICO EM ADMINISTRAÇÃO ESCOLAR)

O alfabeto grego teve o seu desenvolvimento por volta do século IX A.C., sendo utilizado até os dias de hoje, tanto no grego moderno como também na Matemática, Astronomia, etc. A tabela abaixo apresenta as cinco primeiras letras (minúsculas) do alfabeto grego.

Letra	Nome
α	Alfa
β	Beta
γ	Gama
δ	Delta
ϵ	Épsilon

Sobre o texto, analise as seguintes afirmativas.

I - O alinhamento horizontal do primeiro parágrafo do texto está justificado.

II - Para inserir uma tabela no Microsoft Word 2007, como a mostrada no texto, pode-se utilizar a guia Início, menu Tabela.

III - Para inserir os símbolos α , β , γ , δ e ϵ , como mostrados na tabela, pode-se utilizar a guia Exibição, menu Símbolo.

IV - O alinhamento do texto da primeira linha da tabela está centralizado, tanto na horizontal quanto na vertical.

Estão corretas as afirmativas

Alternativas

- (A) I e IV, apenas.
- (B) II e III, apenas.
- (C) I e III, apenas.
- (D) II e IV, apenas

4.(UFMT - 2010 - PREFEITURA DE CUIABÁ - MT - TÉCNICO EM ADMINISTRAÇÃO ESCOLAR)

O alfabeto grego teve o seu desenvolvimento por volta do século IX A.C., sendo utilizado até os dias de hoje, tanto no grego moderno como também na Matemática, Astronomia, etc. A tabela abaixo apresenta as cinco primeiras letras (minúsculas) do alfabeto grego.

Letra	Nome
α	Alfa
β	Beta
γ	Gama
δ	Delta
ϵ	Épsilon

O efeito aplicado na primeira letra do texto pode ser obtido pela sequência de passos:

Alternativas

- (A) Guia Início, menu WordArt, opção Letra Capitular.
- (B) Guia Início, menu Letra Capitular, opção Capitular.
- (C) Guia Inserir, menu WordArt, opção Letra Capitular.
- (D) Guia Inserir, menu Letra Capitular, opção Capitular.

5.(UFMT - 2012 - TJ-MT - OFICIAL DE JUSTIÇA)

Em relação aos softwares nocivos, escritos para comprometer a segurança dos computadores e sistemas, o _____ é um programa autorreplicante completo, que não necessita de um programa hospedeiro para se propagar. O tipo de programa que preenche corretamente a lacuna é:

Alternativas

- (A) worm
- (B) vírus
- (C) trojan
- (D) exploit

6.(UFMT - 2012 - TJ-MT - OFICIAL DE JUSTIÇA)

Em relação ao software Excel 2003, é correto afirmar:

Alternativas

- (A) A quantidade máxima de linhas é limitada a 99.999 e a quantidade de colunas limitada até o uso das letras ZZ.
- (B) As colunas são referenciadas por números e as linhas, por letras.
- (C) O comando Colar Especial não permite colar gráficos.
- (D) As linhas são referenciadas por números e as colunas, por letras.

7.(UFMT - 2012 - TJ-MT - OFICIAL DE JUSTIÇA)

Considerando um arquivo no Excel 2003 com as planilhas Custo e Financeiro, uma célula na planilha Financeiro com o conteúdo =Custo!J45 irá mostrar

Alternativas

- (A) a expressão Custo!J45.
- (B) mensagem de erro.
- (C) a palavra Custo seguida do conteúdo da célula J45.
- (D) o mesmo conteúdo da célula J45 existente na planilha Custo.

8.(UFMT - 2012 - TJ-MT - OFICIAL DE JUSTIÇA)

No contexto do software Word 2003, em sua configuração padrão, analise as afirmativas abaixo.

I - A combinação de teclas Ctrl + P (tecla Ctrl mais a tecla P) realiza a impressão diretamente na impressora padrão.

II - O comando Colar Especial permite que um texto seja colado sem a formatação original.

III - Com o uso de estilos, é possível gerar automaticamente o índice do tipo sumário.

IV - A combinação de teclas Shift + F3 (tecla Shift mais tecla F3) aciona o comando que altera a capitalização da(s) palavra(s) selecionada(s).

Estão corretas as afirmativas

Alternativas

- (A) I e II, apenas.
- (B) II, III e IV.
- (C) III e IV, apenas.
- (D) I e IV, apenas.

9.(UFMT - 2012 - TJ-MT - OFICIAL DE JUSTIÇA)

Considerando o navegador Web Mozilla Firefox versão 10, marque V para as afirmativas verdadeiras e F para as falsas.

() Todas as páginas visitadas são armazenadas no histórico que não pode ser apagado nem desabilitado.

() É possível abrir várias páginas simultaneamente tanto em abas quanto em janelas diferentes.

() Todas as páginas visitadas são armazenadas automaticamente em favoritos (bookmark) para acesso rápido.

() Para visualizar vídeos no formato flash no próprio navegador, é preciso a instalação de um plugin adequado.

Assinale a sequência correta.

Alternativas

- (A) F, V, F, V
- (B) F, V, V, V
- (C) V, V, F, F
- (D) F, F, F, V

10.(UFMT - 2012 - TJ-MT - OFICIAL DE JUSTIÇA)

Considere o painel de controle do Windows 7.



Qual opção apresentada pode ser utilizada para ajustar o Firewall?

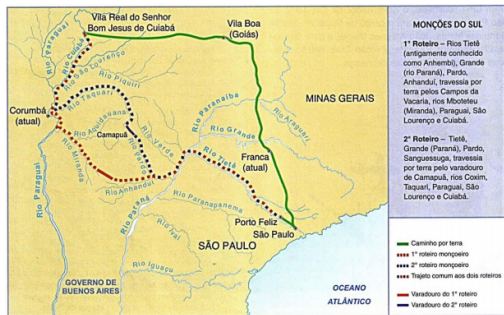
Alternativas

- (A) Rede e Internet
- (B) Sistema e Segurança
- (C) Hardware e Sons
- (D) Contas de Usuário e Segurança Familiar

HISTÓRIA DE MATO GROSSO

1.(UFMT - 2015 - DETRAN-MT - AGENTE DO SERVIÇO DE TRÂNSITO)

Observe a figura.



(SIQUEIRA, E. M. História de Mato Grosso. Da ancestralidade aos nossos dias. Cuiabá: Entrelinhas, 2002.)

O mapa acima mostra os diferentes caminhos ligando São Paulo ao extremo Oeste do Império Português com destaque para Corumbá e a Vila Real do Senhor Bom Jesus de Cuiabá. Sobre as rotas monçoieiras destacadas, analise as afirmativas.

I - Tornaram-se importantes após o surgimento da exploração aurífera nas margens do Rio Cuiabá.

II - Desenvolveram-se como rota de contrabando entre as terras do Império Espanhol e São Paulo.

III - Abasteciam o extremo Oeste do Império Português com roupas, sal, ferramentas.

IV - Foram usadas durante todo o período colonial para levar homens para enfrentar os índios Guaicurus.

Estão corretas as afirmativas

Alternativas

- (A) II e IV.
- (B) II e III.
- (C) I e III.
- (D) I e IV.

2.(UFMT - 2015 - DETRAN-MT - AGENTE DO SERVIÇO DE TRÂNSITO)

O que se denominou “Marcha para o Oeste” foi Alternativas

(A) a marcha da Coluna Prestes pelo interior de Mato Grosso, chamando o povo para a insurgência contra o Governo Federal.

(B) a viagem de Mário de Andrade por Mato Grosso com artistas estrangeiros durante sua fase modernista.

(C) a incursão das forças armadas brasileiras contra os insurgentes da Rusga visando a sua destruição.

(D) o projeto do governo Getúlio Vargas no período do Estado Novo, para integrar e desenvolver o interior do Brasil, inclusive o estado de Mato Grosso.

3.(UFMT - 2015 - DETRAN-MT - AGENTE DO SERVIÇO DE TRÂNSITO)

Leia atentamente o artigo primeiro do Decreto-Lei N.º 1.164, de 1º de abril de 1971.

São declaradas indispensáveis à segurança e ao desenvolvimento nacionais, na região da Amazônia Legal, definida no artigo 2º da Lei nº 5.173, de 27 de outubro de 1966, as terras devolutas situadas na faixa de cem (100) quilômetros de largura, em cada lado do eixo das seguintes rodovias, já construídas, em construção ou projeto (BRASIL, 1971).

O referido artigo está sucedido de uma longa lista das rodovias federais construídas, em construção ou projetadas pelo Governo Federal no momento de sua publicação. Com base nessas informações, marque V para as afirmativas verdadeiras e F para as falsas.

() Esse decreto-lei não teve qualquer impacto sobre o estado de Mato Grosso.

() Esse decreto-lei transferiu para a competência da União parte significativa das terras devolutas do território mato-grossense.

() A elite política mato-grossense contestou tal medida evitando perder a competência sobre as referidas terras devolutas.

() Nessas terras devolutas em Mato Grosso, o Instituto de Colonização e Reforma Agrária (INCRA) aprovou dezenas de projetos de colonização.

Assinale a sequência correta.

Alternativas

- (A) V, F, V, F
- (B) F, V, F, V
- (C) F, F, V, V
- (D) V, V, F, F

4.(UFMT - 2015 - DETRAN-MT - AGENTE DO SERVIÇO DE TRÂNSITO)

Sobre a sociedade mato-grossense durante o período colonial, é correto afirmar:

Alternativas

- (A) Homens livres pobres, escravos e índios aproximavam-se e mantinham relações de ajuda mútua e solidariedade.
- (B) O abundante uso de escravos africanos evitou a perseguição do indígena.
- (C) As relações entre brancos e índios eram cordiais, enquanto os negros mantiveram-se afastados e marginalizados.
- (D) A proximidade com a fronteira espanhola produziu grande integração social, étnica, econômica e de gênero.

5.(UFMT - 2015 - DETRAN-MT - AGENTE DO SERVIÇO DE TRÂNSITO)

Assim se denominam os torneios hípicas que se constituíram num dos mais populares folguedos em Mato Grosso, notadamente em Cuiabá, Poconé, São Luís de Cáceres e Porto Esperidião. [...] Foi uma diversão popular que conservou vestígios das lutas medievais, preservada pelos povoadores de Mato Grosso, que imitaram os celebrados torneios que o feudalismo desenvolveu. [...] Caracteriza-se como as guerras entre mouros e cristãos.

(LOUREIRO, R. Cultura Mato-Grossense: Festas de Santos e outras tradições. Cuiabá, MT: Entrelinhas, 2006.)

O texto faz referência às

Alternativas

- (A) Touradas.
- (B) Folias de Santos.
- (C) Cavalhadas.
- (D) Folias de Reis.

6.(UFMT - PROFESSOR DO ENSINO BÁSICO, TÉCNICO E TECNOLÓGICO (IF MT)/HISTÓRIA/2015)

A sociedade constituída no planalto da capitania de Martim Afonso mantém-se, por longo tempo ainda, numa situação de instabilidade ou imaturidade, que deixa margem ao maior intercurso dos adventícios com a população nativa. Sua vocação estaria no caminho, que convida ao movimento; não na grande propriedade rural que forma indivíduos sedentários.

(HOLANDA, S. B. de. Caminhos e Fronteiras. 3ª ed. São Paulo: Companhia das Letras, 2008.)

A historiografia do século XX foi pródiga em valorizar o movimento das bandeiras e os bandeirantes como forma de justificar o estabelecimento da hegemonia paulista no contexto nacional, apesar disso a importância desse fenômeno não pode ser minimizada. Sobre as bandeiras, marque V para as afirmativas verdadeiras e F para as falsas.

() Contribuíram para o alargamento do território da América portuguesa, ainda que ao preço da escravização indígena.

() Fortaleceram a presença jesuítica no espaço colonial, uma vez que a catequese das populações pré-cabralinas era um de seus objetivos centrais.

() Formaram um núcleo de poder bastante afinado com a metrópole, que se contrapôs aos interesses dos senhores de engenho.

() Descobriram importantes jazidas de metais e pedras preciosas em Minas Gerais, Goiás e Mato Grosso.

Assinale a sequência correta.

- (A) V, V, V, F
- (B) F, V, F, V
- (C) F, F, V, V
- (D) V, F, F, V

7.(UFMT - PROFESSOR DO ENSINO BÁSICO, TÉCNICO E TECNOLÓGICO (IF MT)/HISTÓRIA/2015)

[...] a guerra injusta, cruel, tirânica e sangrenta [...] na guerra não deixam viver senão as crianças e mulheres: e depois oprimem-nos com a mais horrível e áspera servidão a que jamais se tenham submetido homens ou animais.

(LAS CASAS, B. O paraíso destruído. Porto Alegre: LP&M, 2001.)

GEOGRAFIA DE MATO GROSSO

1.(UFMT - PROCURADOR JURÍDICO (PREF RONDÔNÓPOLIS)/2019)

Analise a tabela e a figura acerca da evolução populacional do Estado.

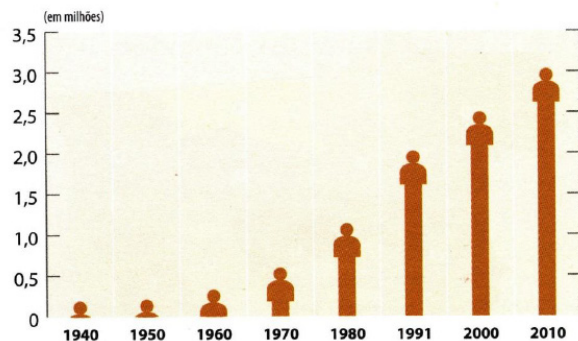
MATO GROSSO – POPULAÇÃO TOTAL E TAXAS GEOMÉTRICAS ANUAIS MÉDIAS DE CRESCIMENTO 1940-2010

Anos	População	
	Total	Taxas geométricas anuais médias de crescimento (%)
1940	193.625	-
1950	212.649	0,94
1960	330.610	4,51
1970	598.879	6,12
1980	1.138.691	6,64
1991	2.027.231	5,38
2000	2.504.353	2,35
2010	3.035.122	1,94

Fonte: IBGE, 1952, 1956, 1967, 1971, 1982, 2000a, 2010.

Obs.: Os dados anteriores à divisão do Estado, referem-se somente ao atual território de Mato Grosso.

MATO GROSSO – CRESCIMENTO DA POPULAÇÃO TOTAL – 1940-2010



Fonte: IBGE, 1952, 1956, 1967, 1971, 1982, 2000a, 2010.


(MORENO, G. HIGA, T. C. S. (Org). *Geografia de Mato Grosso: Território, Sociedade, Ambiente*. Cuiabá: Entrelinhas, 2017.)

A tabela e a figura mostram um crescimento populacional acelerado entre as décadas de 1960 e 1990 no Estado. O que explica esse aumento da população mato-grossense?

- A migração de populações vindas particularmente do Sul do Brasil, especialmente para a ocupação de terras do norte de Mato Grosso.
- A imigração de paraguaios e bolivianos atraídos pelas terras férteis do cerrado na lógica do agronegócio.
- O aumento da taxa de natalidade e o declínio da mortalidade infantil em decorrência das políticas públicas de saúde desenvolvidas pelo governo estadual.
- A demarcação de diversos territórios indígenas e o conseqüente deslocamento dessas populações dos estados vizinhos para Mato Grosso.

2.(UFMT - ANALISTA INSTRUMENTAL (PREF RONDÔNÓPOLIS)/ECONOMISTA/2019 (E MAIS 6 CONCURSOS))

Leia a charge abaixo.



A charge refere-se a duas questões fundamentais para a história recente do Estado de Mato Grosso. Quais são essas questões?

- A demarcação de terras indígenas e os incentivos fiscais para instalação de indústrias.
- O crescimento do rebanho bovino e a instalação da indústria moveleira.
- A expansão do agronegócio e a preservação ambiental.
- O uso de agrotóxicos e o aumento do reconhecimento de comunidades quilombolas.

3.(UFMT - ANALISTA INSTRUMENTAL (PREF RONDÔNÓPOLIS)/ECONOMISTA/2019 (E MAIS 6 CONCURSOS))

A Guerra da Tríplice Aliança, também conhecida como Guerra do Paraguai, foi o maior e mais importante conflito bélico enfrentado pelo Império brasileiro. Travada entre os anos de 1864 e 1870, tendo a Província de Mato Grosso como um dos cenários das ações militares. É possível identificar, após o final da Guerra, significativos desdobramentos em Mato Grosso. Quais foram esses desdobramentos?

- Crescimento do comércio com a Bolívia e início dos trabalhos de construção de uma ligação ferroviária com São Paulo.
- Deslocamento do eixo econômico da Província para a região do Araguaia devido à exploração de borracha e às primeiras tentativas separatistas do sul de Mato Grosso.
- Expressiva diminuição do número de escravos libertados devido ao engajamento nas tropas imperiais e fortalecimento político das elites cuiabanas.
- Maior articulação do sul de Mato Grosso com a economia nacional e a intensificação da chegada de imigrantes estrangeiros.

4.(UFMT - PAPILOSCOPISTA (POLITEC MT)/2017 (E MAIS 1 CONCURSO)

Em muitas cidades mato-grossenses, observa-se a existência da segregação urbana que está relacionada também à crescente violência urbana. Sobre o assunto, marque V para as assertivas verdadeiras e F para as falsas.

() Um aspecto referente à segregação urbana é a existência da cidade planejada e servida de todos os serviços urbanos onde mora a população rica e a criminalidade não existe.

() A violência urbana apresenta índices de criminalidade que ocorrem somente no espaço ocupado pela cidade não planejada e periférica, onde vive a população mais pobre.

() A segregação espacial é provocada pela segregação econômica tendo em vista que as classes menos favorecidas habitam, em sua maioria, na periferia, em que a infraestrutura deixa a desejar.

() Quanto mais avança a violência urbana, mais se observam investimentos do setor imobiliário na construção de condomínios privados, pois vendem a “imagem” de tranquilidade e segurança.

Assinale a sequência correta.

- (A) F, V, F, V
- (B) V, V, F, F
- (C) F, F, V, V
- (D) V, F, F, V

5.(UFMT - PAPILOSCOPISTA (POLITEC MT)/2017 (E MAIS 1 CONCURSO)

O estado de Mato Grosso, apesar de iniciar um processo de ocupação mais efetiva de seu território no século XVIII, teve um desenvolvimento econômico mais pungente somente a partir de 1970. Isso se deve especialmente:

(A) Ao fato de a maioria da população residir em áreas rurais, local onde se encontra a maior oferta de empregos do estado.

(B) Ao processo de industrialização que se consolidou a partir do “Plano de Metas” no governo de Juscelino Kubitschek, com a implantação do Distrito Industrial de Cuiabá.

(C) À concentração das atividades econômicas no extrativismo mineral e vegetal e à instalação da indústria moveleira.

(D) Ao processo de ocupação da fronteira agrícola mato-grossense cujo modelo se assenta na produção agropecuária voltada principalmente à exportação de commodities.

6.(UFMT - PAPILOSCOPISTA (POLITEC MT)/2017 (E MAIS 1 CONCURSO)

Na natureza nada existe isoladamente. A paisagem natural é o resultado da interação de vários elementos da natureza, como estrutura geológica, relevo, clima, hidrografia, solo e vegetação. Assim, pode-se dizer que, no estado de Mato Grosso, a combinação desses elementos resultou numa paisagem natural diversificada que

(A) tem sua maior área territorial representada por áreas planas em que predominam três tipos de vegetação: o cerrado, a floresta amazônica e o complexo do pantanal.

(B) possui relevo muito acidentado, o que torna a limpeza do terreno para a prática agrícola muito onerosa e dificulta a prática do reflorestamento nas áreas de transição.

(C) na maioria das áreas planas, predomina o clima equatorial e a floresta tropical latifoliada, a que sofreu maior desmatamento desde a ocupação da fronteira agrícola.

(D) tem a região geológica mais antiga do país, o pantanal mato-grossense, local onde se encontra a maior diversidade da flora e fauna do Brasil

7.(UFMT - GEÓGRAFO (UFMT)/2016)

A cidade de Cuiabá teve o seu espaço urbano acrescido e modificado nos últimos anos. Na época das chuvas, os episódios de alagamentos têm aumentado e potencializado em vários pontos da cidade, sobretudo em locais onde ocorreram mudanças no uso da terra para as obras de mobilidade urbana para a Copa de 2014.

Defesa Civil pede interdição de viaduto da Copa em Cuiabá durante chuva

Região do viaduto Clóvis Roberto sofre com alagamentos frequentes.

Trecho está localizado na Avenida Fernando Corrêa da Costa.



1. UFMT - Técnico (UFMT)/Laboratório/Química/2016

Os íons são espécies químicas eletricamente carregadas. De acordo com a carga, tais espécies podem estar negativamente carregadas, e, nesse caso, são conhecidas como íons negativos, ou positivamente carregadas, e, nesse caso, são denominadas íons positivos.

(FELTRE, R. *Fundamentos da*

Química. Química. Tecnologia e Sociedade. Vol Único. São Paulo: Moderna, 2005. Adaptado.)

Um certo íon positivo tem carga +1 e apresenta um total de 19 prótons e 20 nêutrons em seu núcleo. O número de elétrons e o número de massa de um átomo desse íon, em seu estado normal, são, respectivamente:

- (A) 18 e 39
- (B) 18 e 41
- (C) 19 e 20
- (D) 19 e 38

2. UFMT - Técnico (UFMT)/Laboratório/Química/2016

Por meio dos modelos atômicos, as partículas constituintes dos átomos foram quantificadas e definidas. Com base nessas informações, foram elaborados alguns conceitos diretamente relacionados a essas partículas, suas cargas e seus números, que servem para identificar os átomos. Se o número das partículas fundamentais for analisado, será possível identificar e formar conjuntos de átomos com algumas similaridades. Essa propriedade dos átomos recebe o nome de semelhança atômica. Assim, pares de átomos ou íons se enquadram, respectivamente, como espécies isoeletrônicas, isotópicas, isobáricas e isotônicas. Examinando a sequência de átomos e íons genéricos:

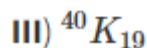
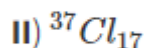
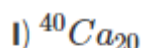


a alternativa que apresenta correta e respectivamente os pares de átomos, de átomos e íons ou de íons que trazem as aludidas semelhanças atômicas é:

- (A) ${}_{20}^{40}P$ e ${}_{19}^{39}Q^{1+}$; ${}_{19}^{39}Q^{1+}$ e ${}_{19}^{40}R$; ${}_{19}^{40}R$ e ${}_{16}^{32}S^{2-}$; ${}_{20}^{40}P$ e ${}_{19}^{40}R$.
- (B) ${}_{20}^{40}P$ e ${}_{19}^{39}Q^{1+}$; ${}_{19}^{39}Q^{1+}$ e ${}_{19}^{40}R$; ${}_{19}^{40}R$ e ${}_{16}^{32}S^{2-}$; ${}_{20}^{40}P$ e ${}_{19}^{40}R$.
- (C) ${}_{19}^{39}Q^{1+}$ e ${}_{16}^{32}S^{2-}$; ${}_{19}^{39}Q^{1+}$ e ${}_{19}^{40}R$; ${}_{20}^{40}P$ e ${}_{19}^{40}R$; ${}_{20}^{40}P$ e ${}_{19}^{39}Q^{1+}$.
- (D) ${}_{19}^{39}Q^{1+}$ e ${}_{19}^{40}R$; ${}_{19}^{39}Q^{1+}$ e ${}_{16}^{32}S^{2-}$; ${}_{20}^{40}P$ e ${}_{19}^{39}Q^{1+}$; ${}_{19}^{40}R$ e ${}_{19}^{39}Q^{1+}$.

3. UFMT - Assistente de Laboratório (IF MT)/2015

Analise a notação dos átomos dos elementos químicos apresentados abaixo.



Sobre tais elementos, assinale a afirmativa correta.

- (A) I e II são isótopos.
- (B) II e III são isótonos.
- (C) I, II e III são isóbaros.
- (D) I e III são isóbaros.

4. UFMT - Professor do Ensino Básico, Técnico e Tecnológico (IF MT)/Química/2015

Sobre os números quânticos e as informações acerca das propriedades do elétron em um determinado orbital que estes fornecem, assinale a afirmativa **INCORRETA**.

Considere que o primeiro elétron a ocupar um orbital possui número quântico de spin igual a $-1/2$.

(A) O elétron de diferenciação para um átomo com $Z = 20$ possui a seguinte série de números quânticos: $n = 4, l = 0, m = 0, s = +1/2$.

(B) Um elétron na camada N só pode assumir valores de l (número quântico secundário) iguais a 1 e 2.

(C) Um átomo neutro com elétron de valência no subnível d da camada M tem número atômico máximo igual a 30.

(D) É possível o conjunto de números quânticos: $n = 3; l = 2; m = 2; s = -1/2$ para um elétron.

5. UFMT - Técnico (UFT)/Laboratório/Química/2014

A distribuição eletrônica descreve o arranjo dos elétrons em um átomo, fornecendo o número de elétrons em cada nível. Um elemento tem a seguinte distribuição eletrônica para seu átomo, no estado fundamental: $1s^2 2s^2 2p^6 3s^2 3p^6 4s^2$. Sobre esse elemento, analise as afirmativas.

I - O número de prótons no núcleo do átomo desse elemento é 20.

II - É um elemento representativo do grupo II da tabela periódica.

III - Pertencente ao 3º período, trata-se de um metal alcalino.

IV - O último nível energético apresenta dois elétrons desemparelhados.

Está **correto** o que se afirma em

- (A) I e II, apenas.
- (B) I, II, III e IV.
- (C) I e III, apenas.
- (D) II e IV, apenas.

6. UFMT - Técnico de Laboratório (IF MT)/Química/2012

Considere os elementos químicos representados por **M**, **E**, **L**, **O** e **U**, em que as letras não representam o verdadeiro símbolo desses elementos.

Admita:

I- O átomo neutro de **M** tem 10 elétrons.

II- E^{+2} , **M** e L^- são isoeletrônicos.

III- **O** é o metal alcalino terroso do 4º período da tabela periódica.

IV- **U** pertence ao 4º período e ao mesmo grupo que **L** na tabela periódica.

A partir dessas informações, assinale a afirmativa **INCORRETA**.

(A) **L** é um metal alcalino.

(B) **M** é um gás nobre.

(C) **E** é um metal alcalino terroso.

(D) **O** tem número atômico 20 e **U** é um halogênio.

7. UFMT - Professor do Ensino Básico, Técnico e Tecnológico (IF MT)/Química/2012

Sobre um elemento químico M que apresenta número atômico igual a 38, pode-se afirmar:

(A) Forma, com um metal alcalino, um composto iônico cuja solução aquosa é boa condutora de corrente elétrica.

(B) A ligação entre os seus íons se dá por covalência.

(C) O cátion, o ânion e o composto formado por M e um calcogênio Y são, respectivamente, Y^{2+} , M^- , MY.

(D) Forma com um halogênio X um composto iônico MX_2 .

8. UFMT - Papiloscopista (POLITEC MT)/2017

A química nuclear é o estudo das reações nucleares e respectivas utilizações na química. Os decaimentos radiativos conhecidos são, na sua maioria, emissões de partículas alfa (α), beta (β) e/ou gama (γ). A radioatividade pode ser detectada por um instrumento denominado Contador Geiger. O princípio de funcionamento desse instrumento é baseado na

(A) ionização da matéria.

(B) condensação da matéria.

(C) neutralização da matéria.

(D) cintilação da matéria.

9. UFMT - Professor do Ensino Básico, Técnico e Tecnológico (IF MT)/Química/2015

A coluna da esquerda apresenta fundamentos da cinética das reações químicas e a da direita, suas definições/caracterizações. Numere a coluna da direita de acordo com a da esquerda.

DIREITO CONSTITUCIONAL

1.(UFMT - 2007 - PREFEITURA DE CUIABÁ - MT - PROCURADOR MUNICIPAL)

A intervenção do Estado no Município constitui medida de caráter excepcional, prevista na Constituição Federal. Sobre o assunto, assinale a afirmativa correta.

Alternativas

- (A) O Prefeito Municipal que deixar de repassar o percentual da receita destinado ao Poder Legislativo Municipal até o dia 30 de cada mês incorre em crime de irresponsabilidade.
- (B) Caso o Tribunal de Justiça dê provimento à representação para prover a execução de decisão judicial, o Presidente da Câmara, devidamente notificado, submeterá à apreciação do legislativo municipal resolução deliberando sobre o afastamento do Prefeito Municipal.
- (C) O Estado poderá intervir no Município se não tiver sido aplicado o mínimo exigido da receita municipal na manutenção e no desenvolvimento do ensino e nas ações e serviços públicos de saúde.
- (D) Enquanto perdurar a intervenção estadual no Município, o cargo de prefeito será exercido pelo Presidente da Câmara dos Vereadores.
- (E) Cessados os motivos da intervenção, o Prefeito Municipal deverá ser reconduzido ao cargo, exceto se o Poder Legislativo Municipal deliberar pela suspensão de seus direitos políticos.

2.(UFMT - 2007 - PREFEITURA DE CUIABÁ - MT - PROCURADOR MUNICIPAL)

Constam da Constituição Federal brasileira regras relativas ao cargo de Prefeito Municipal, bem como criação e desmembramento de Municípios. Considerando os preceitos constitucionais, assinale a afirmativa correta.

Alternativas

- (A) O servidor público será afastado de seu cargo, emprego ou função ao ser investido no mandato de prefeito, sendo facultado optar pela remuneração.
- (B) É condição de elegibilidade para o cargo de prefeito ter a idade mínima exigida para o cargo de vereador.
- (C) O Prefeito Municipal será julgado pelo Tribunal de Justiça, salvo se parlamentar licenciado, hipótese em que será julgado pelo Superior Tribunal de Justiça.
- (D) A criação, a incorporação e o desmembramento de Municípios far-se-ão por leis municipais após prévia consulta mediante plebiscito à população envolvida.
- (E) No caso de desmembramento de Municípios, a instalação do novo Município dar-se-á com a publicação da lei autorizativa.

3.(UFMT - 2007 - PREFEITURA DE CUIABÁ - MT - PROCURADOR MUNICIPAL)

Em relação às competências constitucionais e legais dos Municípios, assinale a afirmativa correta.

Alternativas

- (A) O Imposto sobre a Propriedade Predial e Territorial Urbana poderá ser progressivo em razão da localização e do uso do imóvel, ou ter alíquotas diferenciadas em razão da capacidade contributiva do proprietário do bem.
- (B) O Município organizará e prestará, sempre em regime de concessão, os serviços públicos de interesse local.
- (C) O Município poderá suplementar as legislações federal e estadual, ressalvada sua competência exclusiva para dispor sobre a criação de Tribunais, Conselhos ou órgãos de contas municipais.
- (D) A lei orgânica do Município será promulgada pela Câmara Municipal, após aprovação por dois terços de seus membros.
- (E) A competência do Município para editar normas gerais sobre meio ambiente não exclui a competência suplementar da União.

4.(UFMT - 2007 - PREFEITURA DE CUIABÁ - MT - PROCURADOR MUNICIPAL)

A Constituição Federal brasileira e a Lei de Política Nacional do Meio Ambiente contemplam a responsabilidade por danos ambientais, estabelecendo que o poluidor seja responsabilizado administrativa e criminalmente, sem prejuízo da obrigação de reparar os danos causados. Considerando a responsabilidade civil por danos ambientais e a ação civil pública, enquanto instrumento processual para implementá-la, assinale a afirmativa correta.

Alternativas

- (A) Os co-legitimados à ação civil pública podem instaurar inquérito civil para apurar danos causados ao meio ambiente.
- (B) A Secretaria Municipal de Meio Ambiente pode tomar dos interessados compromisso de ajustamento de sua conduta às exigências legais, mediante cominações que terão eficácia de título executivo extrajudicial.
- (C) A Lei da Ação Civil Pública assegura a observância do princípio do contraditório no inquérito civil público.
- (D) O Município poderá figurar como autor de ação civil pública que vise à reparação de danos ambientais e à criminalização dos degradadores, hipótese em que o Ministério Público atuará como fiscal da lei.
- (E) Nas ações civis públicas propostas pelo Município visando à reparação de danos ambientais, o órgão estadual do meio ambiente deverá figurar, sob pena de nulidade, no pólo passivo tendo em vista sua omissão na fiscalização.

5.(UFMT - 2007 - PREFEITURA DE CUIABÁ - MT - PROCURADOR MUNICIPAL)

O Município, no regime legal de sua competência, NÃO pode

Alternativas

(A) legislar sobre assuntos de interesse local e de forma suplementar às legislações federal e estadual, instituir tributos, constituir distritos, organizar diretamente ou por terceiros serviços de atendimento à população, promover o ordenamento territorial.

(B) exigir bem de herança, decorrido prazo de lei após a declaração de vacância.

(C) instituir impostos prediais progressivos e sobre transmissão inter vivos de bens imóveis e sobre serviços.

(D) instituir taxas, contribuição de melhoria, contribuição social e salários dos membros do Legislativo.

(E) receber metade da receita advinda da cobrança pelo Estado de imposto sobre a propriedade de veículos automotores e um quarto da arrecadação de imposto cobrado pelo Estado a título de circulação de mercadorias.

6.(UFMT - 2007 - PREFEITURA DE CUIABÁ - MT - PROCURADOR MUNICIPAL)

A atuação local do Poder Público para a defesa dos direitos coletivos é prestigiada pela vocação democrática da Constituição Brasileira de 1988 e legislações decorrentes. Sobre o assunto, assinale a afirmativa INCORRETA.

Alternativas

(A) O Município deverá manter comissão permanente para a elaboração, revisão e atualização das normas referentes à informação e ao bem estar do consumidor.

(B) A Administração Pública Municipal responde, independentemente da existência de culpa, pelos danos causados ao consumidor de seus serviços.

(C) Cabe ao Município editar normas relativas à distribuição e ao consumo, bem como à fiscalização e ao controle das atividades do mercado de consumo.

(D) Os entes públicos municipais indiretos não estão imunes de indenizar direito violado de consumidor.

(E) O Município está obrigado a fornecer serviços adequados, eficientes e seguros e, quanto aos essenciais, contínuos.

7.(UFMT - 2007 - PREFEITURA DE CUIABÁ - MT - PROCURADOR MUNICIPAL)

A Assembléia Nacional Constituinte de 1988, por meio do artigo 39 da Carta Magna, determinou a instituição de regime jurídico único para os servidores do poder público. Sobre o assunto, assinale a afirmativa INCORRETA.

Alternativas

(A) A previsão no texto constitucional de 1988 de adoção de um regime jurídico único pelo Município foi substituída por emenda constitucional posterior, com a adoção, em seu lugar, de um conselho de política de administração e remuneração de pessoal.

(B) O caput do artigo 39 da Constituição Federal de 1988 teve sua eficácia suspensa pelo Supremo Tribunal Federal, restaurando a obrigatoriedade na adoção do regime jurídico único pelo Município.

(C) Ao Legislativo Estadual, que produziu em 1989 a sua Constituição Estadual, não cabia, em termos de competência constitucional, contrariar a determinação contida no artigo 39 da Constituição Federal de 1988, para adotar forma jurídica diferente de contratação de servidores.

(D) O Regime Jurídico dos servidores públicos da União é instituído por lei federal (Lei n.º 8112/90) e o dos servidores públicos do Município de Cuiabá por lei municipal (LCM n.º 093/03).

(E) A eficácia jurídica do texto constitucional que obriga a adoção do regime jurídico único corresponde à obrigação do administrador na adoção do subsídio.

8.(UFMT - 2012 - TJ-MT - OFICIAL DE JUSTIÇA)

Uma das ações constitucionais previstas no art. 5º da Carta Magna permite ao cidadão acionar o Estado para buscar informações a seu respeito em bancos de dados do governo ou de caráter público. Essa ação chama-se

Alternativas

(A) Habeas Corpus.

(B) Mandado de Segurança.

(C) Habeas Data.

(D) Mandado de Injunção.

9.(UFMT - 2012 - TJ-MT - OFICIAL DE JUSTIÇA)

A competência dos Tribunais dos Estados, segundo o art. 125, parágrafo 1º da Constituição Federal, é definida

Alternativas

(A) pela Constituição Estadual.

(B) pela Lei Orgânica da Magistratura Nacional.

(C) pela Lei de Organização Judiciária do Estado.

(D) pelo Regimento Interno do Tribunal de Justiça.

DIREITO PENAL

1. UFMT - Distribuidor, Contador e Partidor (TJ MT)/2016

O Júri no Brasil julga

- (A) os crimes dolosos contra a vida.
- (B) todos os crimes contra a vida.
- (C) somente os crimes contra a vida que resultem óbito.
- (D) os crimes contra a vida e contra a integridade física.

2. UFMT - Notário e Registrador (TJ MT)/Provimento/2003

Assinale a atitude correta de um juiz em razão do *Princípio da Verdade Real*.

- (A) Poder se sobrepor às partes para encontrar a verdade.
- (B) Ser livre para, inclusive, rejeitar o devido processo legal.
- (C) Ter a liberdade para julgar mesmo na ausência de provas.
- (D) Buscar a verdade dos fatos de modo comedido.
- (E) Não necessitar de interrogar o réu presente à audiência, podendo dispensar seu depoimento

3. UFMT - Defensor Público do Estado de Mato Grosso/2016/V

Quanto à eficácia temporal, a lei processual penal

- (A) aplica-se somente a fatos criminosos ocorridos após a sua vigência.
- (B) tem aplicação imediata, sem prejuízo da validade dos atos já realizados.
- (C) vigora desde logo, tendo sempre efeito retroativo.
- (D) tem aplicação imediata nos processos ainda não instruídos.
- (E) não tem aplicação imediata, salvo para beneficiar o acusado.

4. UFMT - Oficial de Justiça (TJ MT)/2012

Em relação à aplicação da lei processual penal, analise as seguintes assertivas:

I - Os tratados e convenções internacionais não podem excepcionar a aplicação da lei brasileira em decorrência da soberania nacional.

II - O direito processual penal brasileiro adota, como regra, o princípio da territorialidade, segundo o qual a lei processual pátria aplica-se aos crimes praticados em território nacional.

III - Havendo conflito entre lei nacional e tratado internacional em vigor no Brasil, deve ser aplicada a mais recente.

Está correto o que se afirma em:

- (A) I e III, apenas.
- (B) I e II, apenas.
- (C) II, apenas.
- (D) II e III, apenas.

5. UFMT - Analista Judiciário (TJ MT)/Administração/2016 (e mais 3 concursos)

Em relação ao inquérito policial, marque **V** para as assertivas verdadeiras e **F** para as falsas.

() Nos crimes de ação pública, o inquérito policial terá início com o requerimento do ofendido, não cabendo representação.

() Nos crimes de ação privada, o inquérito policial terá início de ofício.

() À autoridade policial caberá o fornecimento das informações necessárias à instrução e julgamento dos processos.

() À autoridade policial caberá a realização das diligências requisitadas pelo juiz ou Ministério Público.

Assinale a sequência correta.

- (A) F, V, F, V
- (B) V, V, V, F
- (C) F, F, V, V
- (D) V, F, V, F

6. UFMT - Técnico Judiciário (TJ MT)/2016

Consoante o Decreto Lei n.º 3.689, de 3 de outubro de 1941, Código de Processo Penal, o inquérito policial nos crimes de ação pública **NÃO** será iniciado

- (A) de ofício.
- (B) pelo Ministério Público.
- (C) pelo ofensor.
- (D) pelo ofendido.

7. UFMT - Distribuidor, Contador e Partidor (TJ MT)/2012

Quanto às regras que regulam os prazos no Código de Processo Penal, assinale a afirmativa **INCORRETA**.

(A) Considerar-se-á prorrogado até o dia útil imediato o prazo que se encerrar em domingo ou feriado.

(B) Em regra, o inquérito policial deverá terminar no prazo de 10 dias, se o indiciado tiver sido preso em flagrante, ou estiver preso preventivamente, ou no prazo de 60 dias, quando estiver solto mediante fiança ou sem ela.

(C) Em regra, o prazo para oferecimento da denúncia, estando o réu preso, será de 5 dias, e de 15 dias, se o réu estiver solto ou afiançado.

(D) Nos procedimentos ordinário e sumário, oferecida a denúncia ou queixa, o juiz, se não a rejeitar liminarmente, recebê-la-á e ordenará a citação do acusado para responder à acusação, por escrito, no prazo de 10 dias.

8. UFMT - Promotor de Justiça (MPE MT)/2012

Quanto ao prazo para a conclusão do inquérito policial, analise as assertivas abaixo.

I - Segundo o Código de Processo Penal, o inquérito policial deverá terminar no prazo de 15 (quinze) dias, se o indiciado tiver sido preso em flagrante, ou estiver preso preventivamente, ou no prazo de 30 (trinta) dias, quando estiver solto, mediante fiança ou sem ela.

II - Conforme o Código de Processo Penal, se o indiciado tiver sido preso em flagrante, ou se estiver preso preventivamente, o prazo para terminar o inquérito policial será contado a partir do dia em que se executar a ordem de prisão.

III - No rito da Lei de Drogas (Lei nº 11.343/2006), o inquérito policial será concluído no prazo de 30 (trinta) dias, se o indiciado estiver preso, e de 90 (noventa) dias, quando solto.

IV - Os prazos para a conclusão do inquérito policial no rito da Lei de Drogas (Lei nº 11.343/2006) podem ser triplicados pelo juiz, ouvido o Ministério Público, mediante pedido justificado da autoridade de polícia judiciária.

V - Os prazos para a conclusão do inquérito policial no rito da Lei de Drogas (Lei nº 11.343/2006) podem ser triplicados pelo juiz, dispensada a oitiva do Ministério Público, mediante pedido justificado da autoridade de polícia judiciária.

Estão corretas a assertivas:

- (A) I e II, apenas.
- (B) III e IV, apenas.
- (C) II, III e IV, apenas.
- (D) II, IV e V, apenas.
- (E) II e III, apenas.

9. UFMT - Delegado de Polícia (PJC MT)/2005

O inquérito policial é considerado um procedimento

- (A) informal, efetuado por órgãos oficiais.
- (B) sigiloso, vigorando a indisponibilidade e a oportunidade ou conveniência.
- (C) inquisitivo, com as características da autoritariedade e intranscendência.
- (D) escrito, com a característica da indivisibilidade.
- (E) inquisitivo, possuindo ainda a característica da indisponibilidade e oficialidade.

10. UFMT - Delegado de Polícia (PJC MT)/2005

Em matéria de diligências no inquérito policial, assinale a afirmativa correta.

- (A) A vítima poderá requerer a realização de alguma diligência que considerar útil à busca da verdade real, podendo o pleito ser indeferido pela autoridade policial, desde que motivada a decisão.
- (B) A autoridade policial poderá ordenar o reconhecimento de objetos relacionados com o fato delituoso.
- (C) O prazo legal para conclusão de diligências complementares exigidas pelo Ministério Público é de dez dias.
- (D) A reprodução simulada do crime é feita utilizando-se, necessariamente, o réu e a vítima.
- (E) A busca domiciliar pode ser autorizada pela autoridade policial.

11. UFMT - Delegado de Polícia (PJC MT)/2005

Uma das medidas indicadas pelo Código de Processo Penal a serem tomadas pela autoridade policial, logo que tiver conhecimento da prática da infração penal, consiste em

- (A) apreender imediatamente todos os objetos relacionados com o local do fato, para posterior remessa à perícia.
- (B) ouvir o ofendido, com observância, no que for aplicável, às regras sobre o interrogatório em juízo.
- (C) determinar a imediata realização do exame de corpo de delito, nos delitos transeuntes.
- (D) proceder a reconhecimento de pessoas e coisas e a acareações.
- (E) colher somente as principais provas que servirem para o esclarecimento do fato e de suas circunstâncias.

12. UFMT - Delegado de Polícia (PJC MT)/2005

Sobre o inquérito policial e sua conclusão, assinale a afirmativa **INCORRETA**.

- (A) Estando o indiciado preso, nos termos do Código de Processo Penal, o prazo para a conclusão do inquérito é de dez dias.
- (B) No caso de ação penal privada, uma vez concluído o inquérito, os autos serão remetidos ao juízo competente, onde aguardarão o impulso de quem de direito, ou serão entregues pela autoridade policial ao requerente, mediante traslado.
- (C) Eventual devolução do inquérito para diligências complementares implica relaxamento da prisão em flagrante caso a denúncia haja sido oferecida no prazo legal.
- (D) Estando o indiciado solto, o prazo para conclusão de inquérito que apura contravenção penal é de trinta dias.